

NOUSSOURA Mariame

Enseignante

Kahani élémentaire

Cp e

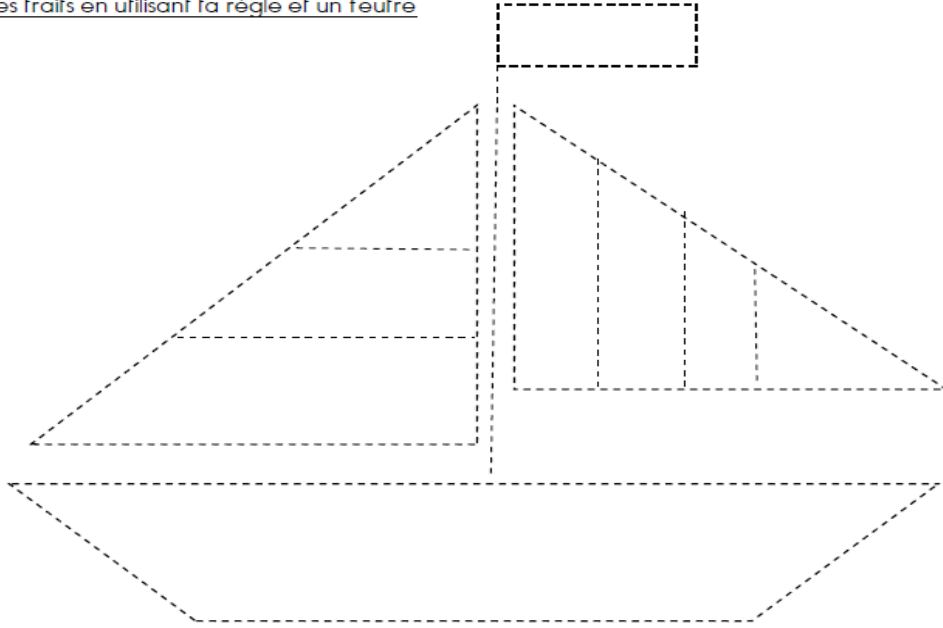
Continuité pédagogique

Du 08/02/2021 au 12/02/2021

Espace et géométrie : le tracer à la règle

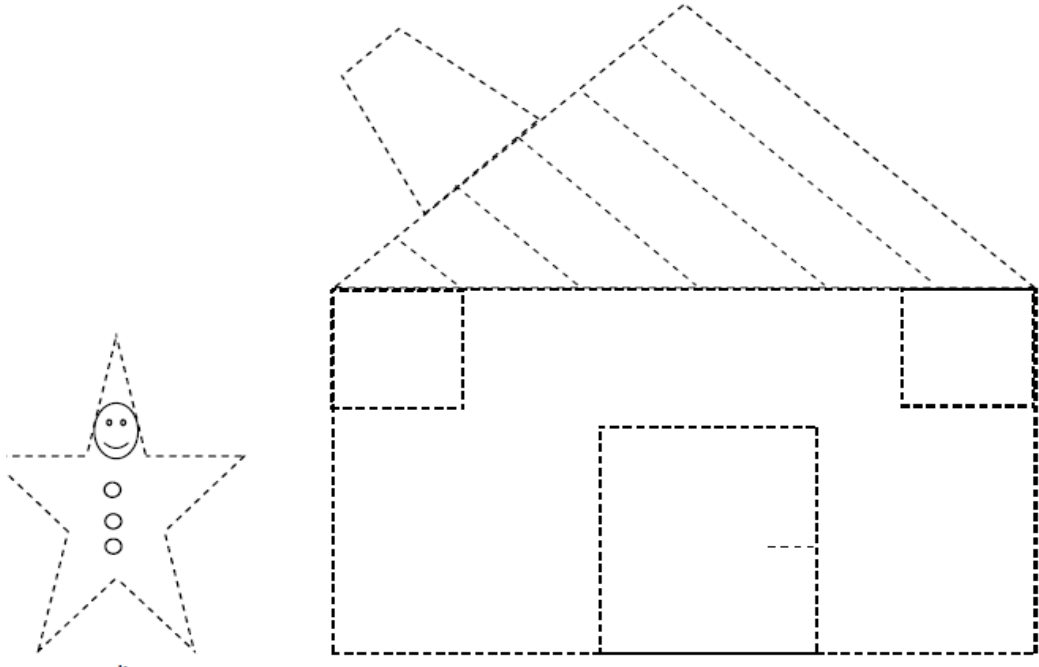
Exercice 1 :

Repasse sur les traits en utilisant ta règle et un feutre



Exercice 2 :

Repasse sur les traits en utilisant la règle et un feutre



Nombre et calcul

3. Compte et complète les étiquettes.

↑	↑	↑	↑	↑

4. Complète.

7	9	11	8
10	6	12	5

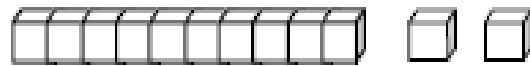
Prénom : _____

Date : _____



Les nombres de 0 à 12

12 douze



1. Dénombrer chaque collection.



→ _____



→ _____



→ _____



→ _____




→ _____




→ _____


2. Complète chaque collection.




12



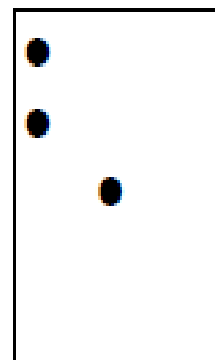
9



7



10



11

3. Associe les collections qui ont le même nombre d'objets.



4. Ecris les nombres en lettres.



sept -



huit -




neuf -



dix -



onze -



douze -

Lis les syllabes.

r	e	→	re		r	e	→	re
l	e	→	le		l	e	→	le
s	e	→	se		s	e	→	se
f	e	→	fe		f	e	→	fe

- le se re fe le se re le se re fe
- le sa if ré or fa se as fe le ir

Lis les mots.

- un refus sale une file relié
- un Russe le ressort relire

Lis les phrases.

- Léo fera rire son fils.
- La fée **ne** sera **pas** affolée.
- Des ressorts **sont** sales.
- Il file **à** une allure folle !

Lis l'histoire de Taoki.

Le sol est lisse... **et** Taoki s'affole !

Il salit le sol.

Lili et Hugo **ne sont pas** rassurés.

mots outils

et
ne... pas
sont
à

